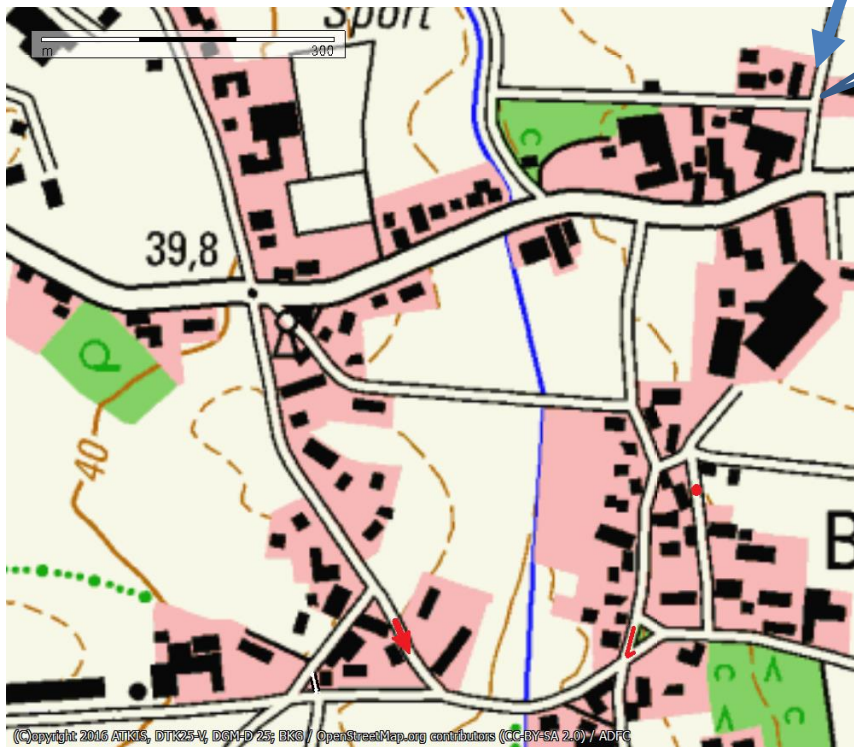


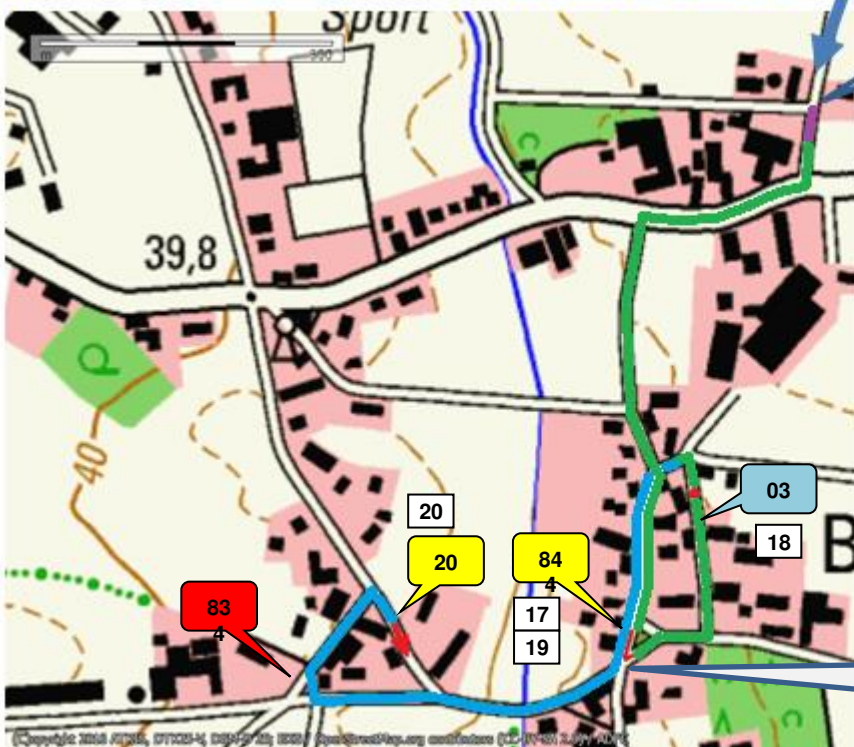
Aufgabe 3 Brettorf 1



BB 82

Fahren Sie von
Bordbuch Nr. 82 zum
A. Danach alle
Aufgabenteile Strich,
Punkt und Pfeil

Lösung 3 Brettorf 1



BB 82

83

20

20

84

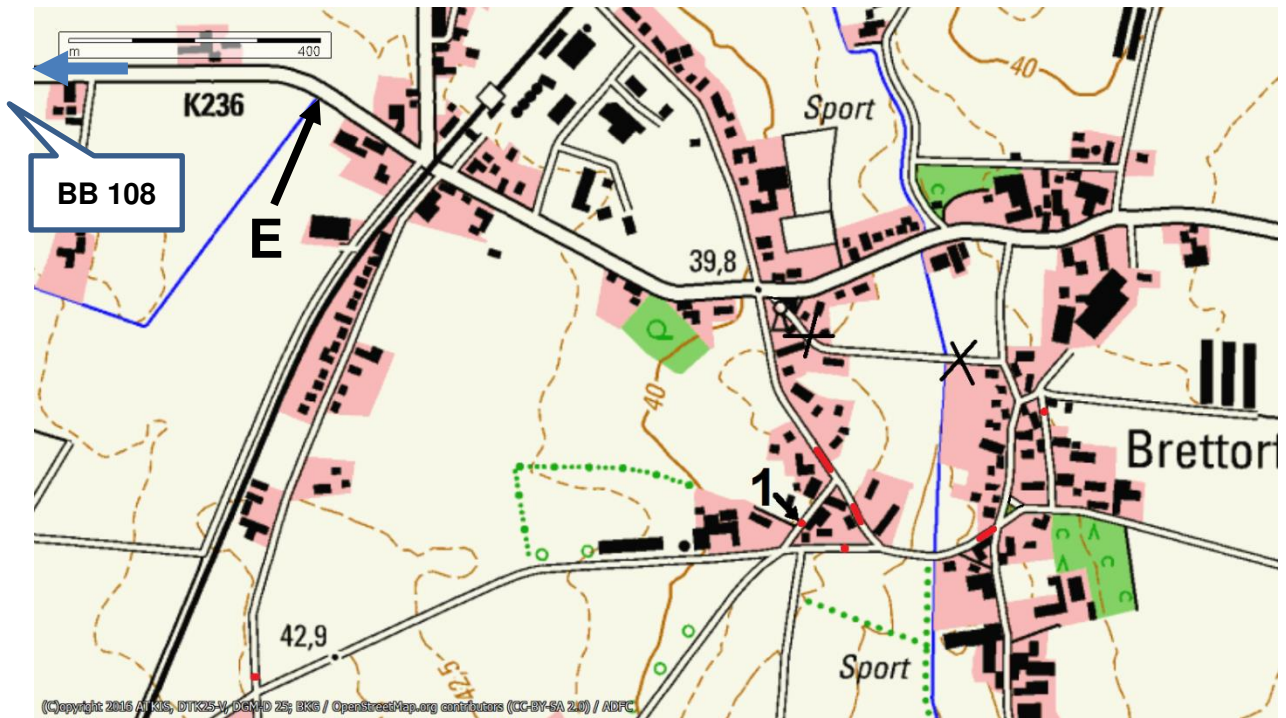
17
19

03

18

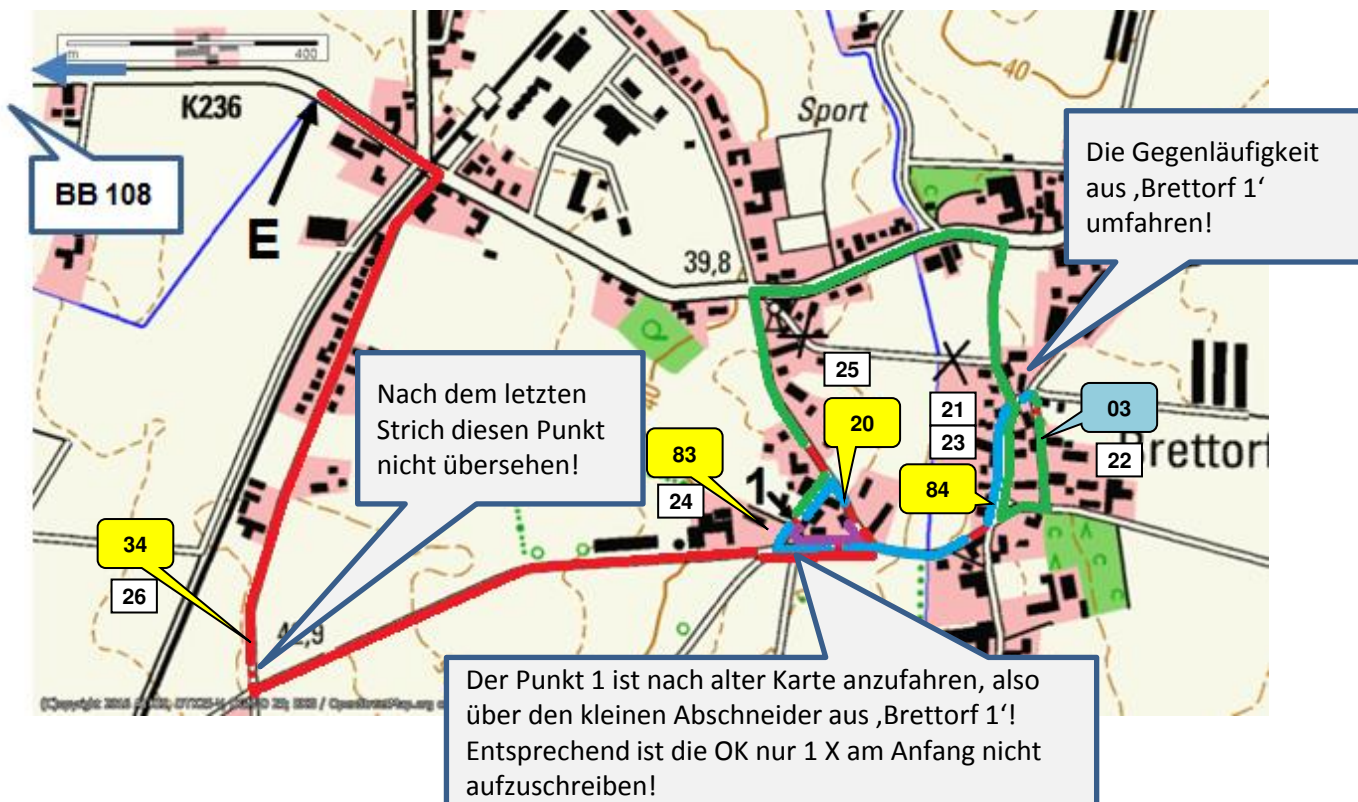
Erst den Strich
befahren!

Aufgabe 4 Brettorf 2

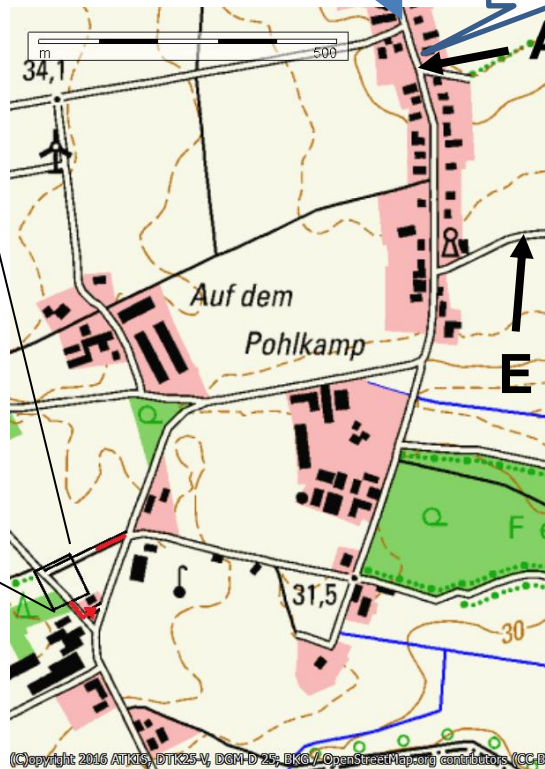
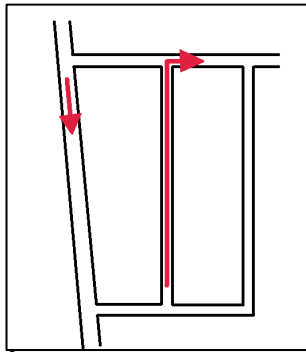


Aufgabe 4 beginnt an Punkt 1 und dann Strich – Punkt – Strich – Punkt usw. alle Aufgabenteile und dann zum E

Lösung 4 Brettorf 2



Aufgabe 5 Bergedorf



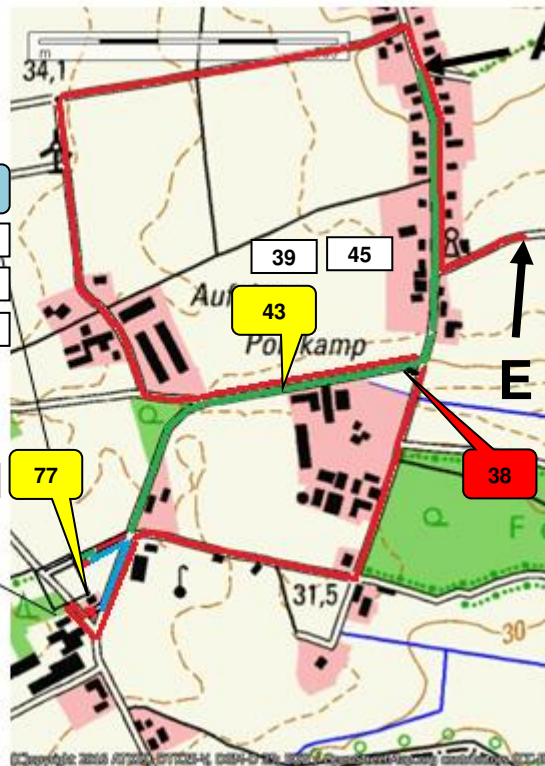
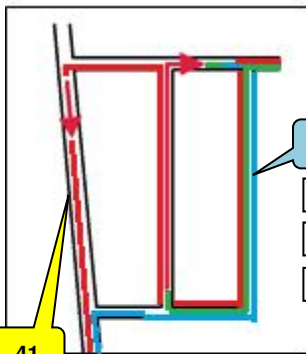
BB 160

BB 185

Fahren sie vom A über den Strich und die Pfeile zum E
 Der Ausschnitt ist eine schematische Darstellung.
 Dabei sind insbesondere die Entfernung gesamt zu messen.
 Die Pfeile dürfen nur einmal ganz befahren werden.

(C)opyright: 2016 ATKIS, DTK25-V, DGM-D 25, BK6 / OpenStreetMap.org contributors (CC BY)

Lösung 5 Bergedorf

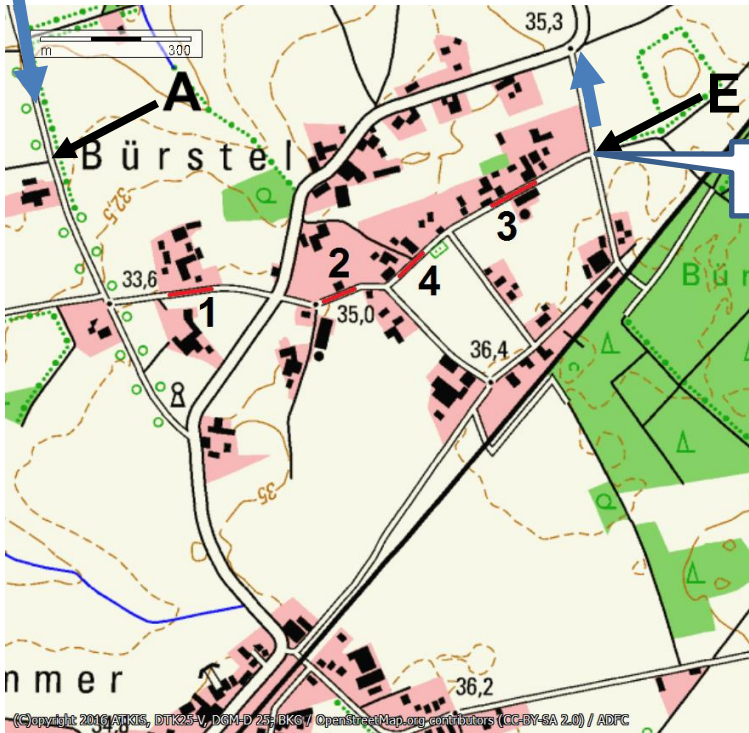


Aufgepasst: Bei der Suche ‚kürzeste Entfernung‘ ist die gesamte Aufgabe zu betrachten. Der Pfeil unten an der OK 77 beginnt direkt am Detailausschnitt und ist daher näher bei der ersten Runde als der kleine Pfeil links im Ausschnitt.
 Also erst zur 77 fahren und dann nochmals zum Parkplatz die 41 mitnehmen und die 77 umfahren.
 Jetzt nur noch den langen Weg raus!

(C)opyright: 2016 ATKIS, DTK25-V, DGM-D 25, BK6 / OpenStreetMap.org contributors (CC BY)

BB 187

Aufgabe 6 Bürstel



BB 197

Fahren sie vom A über die Aufgabenteile in numerischer Reihenfolge zum E

Lösung 6 Bürstel



Die Gegenläufigkeit zu Aufgabe 2 ist zu vermeiden!

BB 197

Rechts abbiegen, um die 4 auf dem Weg zur 3 zu umfahren!

Zurück um den Aufgabenteil 4 zu fahren!